

ENTRENA tu mente

SEGUNDO
CICLO

FICHAS
MUNDIALES

CÓMO ARMAR EL BLOC DE FICHAS:

1. Fichas: recortá por la línea de puntos para separar una ficha de la otra. Luego, ordenalas numéricamente en escala ascendente.
2. Tapas: recortá por la línea de puntos la hoja donde está la tapa y la contratapa para separarlas.
3. Colocá la tapa delante de todas las fichas y la contratapa al final.
4. Abrochá sobre la parte superior las hojas y...
¡DIVERTITE CON AZ Y EL MUNDIAL!

Adaptación de las actividades: María Laura López Arambarri

Lettering de tapa: Melissa Cronenbold

Desarrollo de personajes e ilustraciones: Tony Ganem



AZ

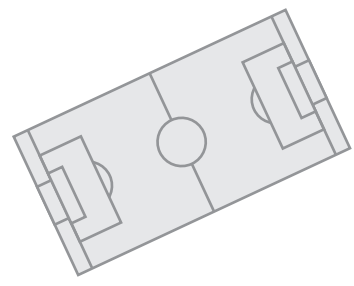




FICHA 1

ENTRENA
tumento

¡QUÉ MEMORIA!

- 1. Observá por 3 minutos los dibujos y recordá la mayor cantidad de nombres.



- a. Tapá los dibujos y escribí en tu cuaderno los nombres de los dibujos que recuerdes.



FICHA 2

ENTRENA
tumento

HINCHAS IGUALES

- 1. Estos hinchas están contentos por los resultados de su país. observá las caras y pintá del mismo color las que son iguales.



- a. Pintá cuántos pares de caras contentas encontraste.

1

2

3



© AZ Editora S.A. Permitida su fotocopia.

© AZ Editora S.A. Permitida su fotocopia.



FICHA 3

ENTRENA
tumento

DIFERENCIAS

1. Observá al jugador y pintá lo que se ve diferente en el espejo.



a. Escribí las diferencias que encontraste.



FICHA 4

ENTRENA
tumento

SERIES

1. Observá la serie y pintá la figura que sigue.

SERIES	OPCIONES

a. Marcá qué tuviste en cuenta para elegir la opción que seguía en cada serie.

- Conté la cantidad de figuras que hay en cada serie.
- Conté la cantidad de figuras que hay de cada una.
- Miré cada cuanto se repetía la figura.
- Observé el orden de aparición de cada figura.

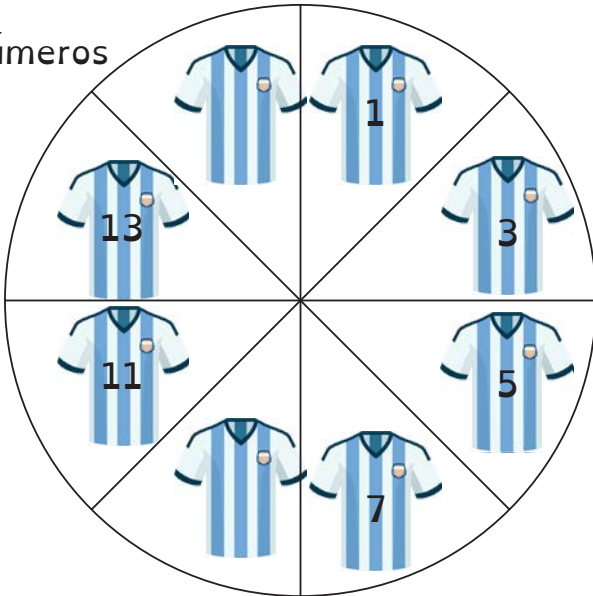


© AZ Editora S.A. Permitida su fotocopia.

© AZ Editora S.A. Permitida su fotocopia.

RUEDA DE CAMISETAS

1. Observá los números de la camiseta en la rueda y descubrí cuál falta.

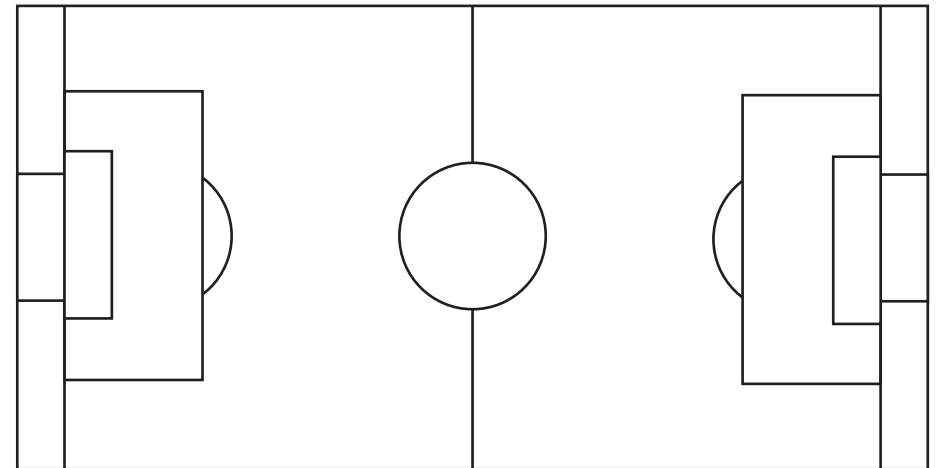


a. Observá las camisetas y marcá las afirmaciones correctas.

- Los números que aparecen son pares.
- El número 7 es impar porque si separás 7 elementos en dos, sobra un elemento.
- Los números que aparecen son impares.
- En la rueda solo hay números pares.

LA CANCHA

1. Observá la imagen.



a. Pintá el número de rectángulos que hay.

10 12 13 14 15

b. Pintá el número de círculos que hay.

1 2 3

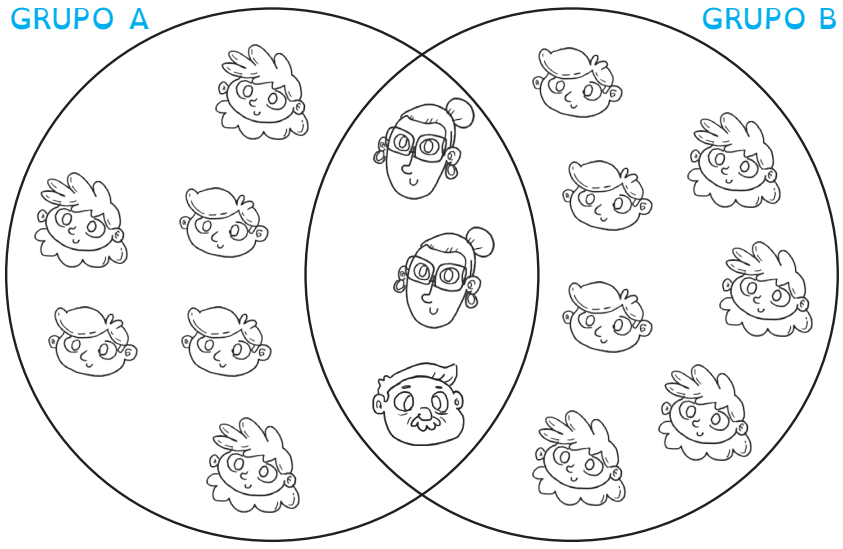


HINCHAS EN CONJUNTO

1. Mirá el gráfico de los hinchas y resolvé debajo.

HINCHAS DEL GRUPO A

HINCHAS DEL GRUPO B




- a. Respondé mirando los conjuntos.
- Números de grupos que hay: _____
- Nombre de los grupos. _____
- Cantidad de integrantes del grupo A: _____
- Cantidad de integrantes del grupo B: _____



¿QUÉ PARTIDO ME TOCA?

1. Se sortearon las entradas para los dos primeros partidos de Argentina. El resultado es que Tomás no será pareja de Laura y Juan sabe que su pareja es mujer, pero no es Clara.



a. Pintá del mismo color los nombres de las parejas que se formaron para ir a ver cada partido.

TOMÁS CLARA JUAN LAURA

B. Teniendo en cuenta los datos del desafío, tachá las opciones que no correspondan en cada caso.

TOMÁS : CLARA JUAN LAURA
 LAURA : CLARA JUAN TOMÁS

PALCO O TRIBUNA

- Clara, Andrés y Ana ganaron entradas para el primer partido de Argentina en Qatar. Uno de ellos irá a palco y los otros dos a la tribuna. Al llegar el momento de elegir quién va a qué lugar, el que va al palco no será varón, y Ana va a la tribuna. ¿quién va al palco y quiénes a la tribuna?



- Anotá en cada caso desde donde verá el partido.



ANDRÉS



CLARA

ESTACIONANDO

- Observá la imagen del estacionamiento del partido y descubrí en qué número se encuentra estacionado el auto de techo gris.



Número de estacionamiento: _____

- Marcá en el gráfico dónde tenés que ubicarte para ver la numeración como la vio le conductor.

¡QUÉ MEMORIA!

1. Leé las palabras y memorizalas.

PARTIDO	QATAR	FÚTBOL
ÁRBITRO		JUGADORES
	JUEZ DE LÍNEA	
ARGENTINA		BANDERAS

a. Tapá las palabras y escribí cada una en un recuadro, en el orden en que te las acuerdes.

BANDERAS

1. Escribí debajo de cada bandera el nombre del país que le corresponde.

GRUPO A



GRUPO B



GRUPO E




GRUPO F



BALDOSAS DEL PALCO

1. Estas son las baldosas del palco principal del partido final del mundial. ¿Cuántos cuadrados hay en cada caso?

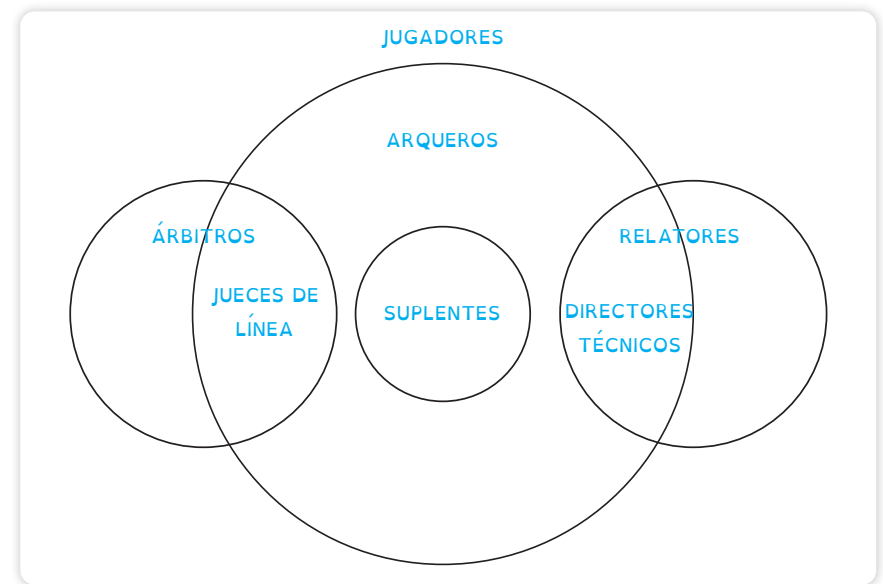


- a. Completá según se indica en cada caso.

Primer cuadrado	segundo cuadrado	ultimo cuadrado
Cuadrados de color:	Cuadrados de color:	Cuadrados de color:
<input type="text"/>	<input type="text"/>	<input type="text"/>
cuadrados blancos	cuadrados blancos	cuadrados blancos
<input type="text"/>	<input type="text"/>	<input type="text"/>
cuadrados bicolor:	cuadrados bicolor:	cuadrados bicolor:
<input type="text"/>	<input type="text"/>	<input type="text"/>

¡HAY EQUIPO!

1. Observá el gráfico e indicá si las siguientes afirmaciones son **V** (verdaderas) o **F** (falsas).



- _____ Todos los suplentes son arqueros.
 _____ Algunos relatores son directores técnicos y también arqueros.
 _____ Algunos jugadores son arqueros.
 _____ Todos los jugadores son directores técnicos.



MEDALLAS

- Leé la descripción y pintá el gráfico correcto.
En la caja de medallas hay:
-4 medallas de oro. -5 medallas de plata.
-3 medallas de bronce. -2 medallas de plata y oro.
-1 medalla de oro y bronce.

GRÁFICO 1

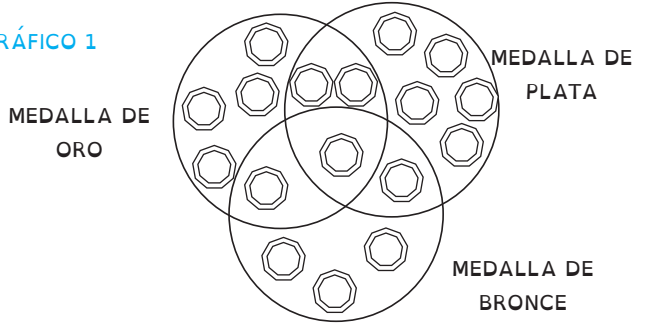
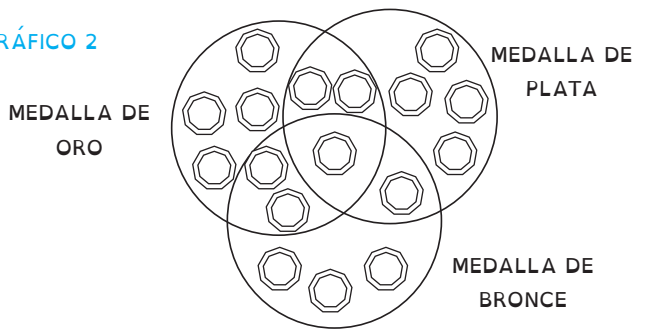



GRÁFICO 2



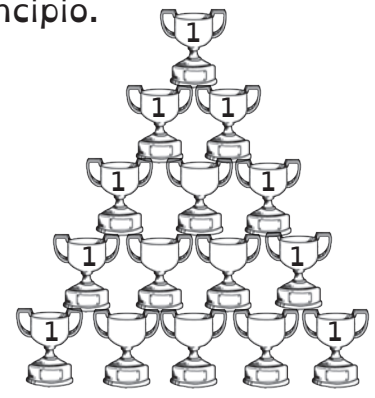
COPAS

- Observá y respondé ¿qué número de copa iría?



a. El número de copa es: _____

- Ahora probá reescribiendo el triángulo de números desde el principio.



© AZ Editora S.A. Permitida su fotocopia.

© AZ Editora S.A. Permitida su fotocopia.

DESAFÍO

1. Dibujá la secuencia que falta en cada caso.



a. Escribí con tus palabras cómo resolviste el desafío.

FAMILIA MUNDIALISTA

1. Resolvé los parentescos de esta familia que viaja al mundial. Elías es hijo de Jorge y primo de Víctor que es sobrino de Marta ¿qué parentesco une a Jorge con Marta si no son esposos ni cuñados?



a. Escribí si son **V** (verdadero) o **F** (falso) estas afirmaciones.

_____ Elías es primo de Víctor.

_____ Elías es hijo de Jorge.

_____ Víctor es hijo de Marta.

_____ Jorge es tío de Víctor.



¡QUÉ MEMORIA!

1. Léé estos dichos y memorízalos.

A este le dice Zapata, si no la gana la empata.
 Dos cabezazos al área es gol.
 Llegar es mejor que estar.
 Penal bien pateado no se ataja.

- a. Dibujá una escena u objetos que te ayuden a recordar cada refrán.

© AZ Editora S.A. Permitida su fotocopia.



SIMETRÍA

1. Completá la mitad que falta a la camiseta, observá bien los detalles.



© AZ Editora S.A. Permitida su fotocopia.

DESAFÍOS

1. Averiguá el valor de cada uno de estos alimentos que Tomi quiere comer en el entretiempo de los partido.

$$\text{Medalla} + \text{Medalla} + \text{Medalla} = 30$$

$$\text{Medalla} + \text{Trophée} + \text{Trophée} = 20$$

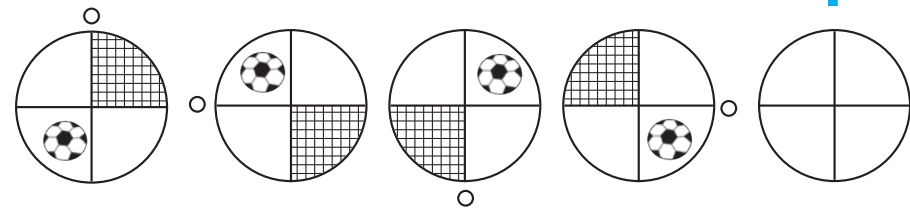
$$\text{Trophée} + \text{Bola} + \text{Bola} = 9$$

$$\text{Trophée} + \text{Bola} \times \text{Medalla} = ?$$

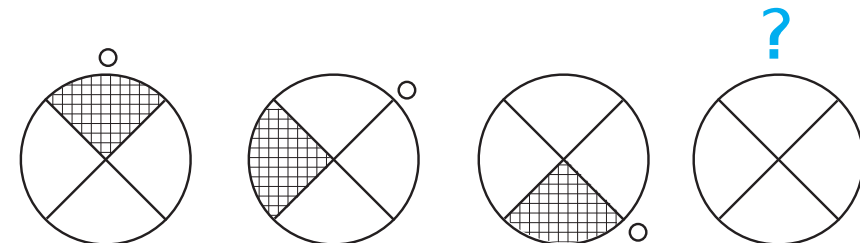
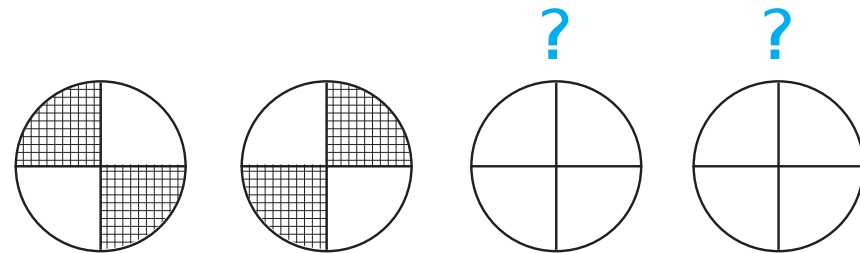
$$\text{Medalla} = \underline{\quad} \quad \text{Trophée} = \underline{\quad} \quad \text{Bola} = \underline{\quad}$$

SECUENCIA

1. ¿Cómo sigue la secuencia?




2. Completá cada serie.



ACERTIJO

1. Se definen las parejas para ir al último partido del mundial. Sofía se pone a conversar con Luis, que no es su pareja, mientras que Sandra que no es pareja de Omar ni de Luis conversa con Andrea que es pareja de Julia, ¿cómo están formadas las parejas si cada una tiene miembros del mismo género?



SOFÍA LUIS SANDRA OMAR ANDREA JULIA

A. Escribí la pareja de cada uno.

SOFÍA _____ LUIS _____

SANDRA _____ OMAR _____

ANDREA _____ JULIA _____

ALOJAMIENTO

1. En esta calle sin salida viven tres familias que alojan jugadores de diferentes equipos: argentinos, mexicanos y brasileros. Cada familia ejerce una única actividad. ¿Cómo podemos averiguar qué nacionalidad de la familia que tiene un almacén si sabemos que los brasileros se alojan en la casa del medio, que los mexicanos son músicos y que los dueños del almacén ocupan la primera vivienda según se entra por el lado de la calle?



Según lo leído respondé:

¿En qué casa viven los mexicanos?

¿Qué familias podés deducir que no tiene un almacén?

PROBLEMAS DE MUNDIAL

1. Leé y resolvé.

Para organizar un torneo de fútbol con 32 equipos ¿cuántos partidos hay que organizar para que haya un campeón?

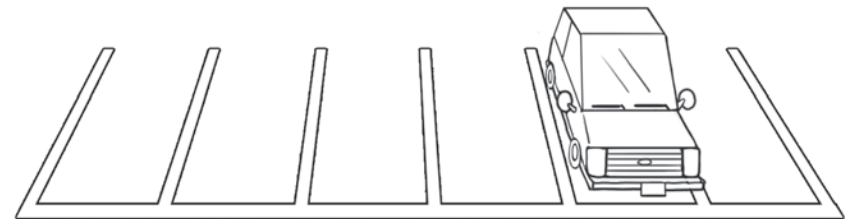
Respuesta:

- a. Explicá con tus palabras cómo lo resolviste.

ESTACIONAMIENTO

- 1- Ordená la secuencia numérica, escribila en el estacionamiento desde el punto de vista del conductor y desafiá a tus amigos y amigas a descubrir dónde está estacionado el auto.

189 191 188 190 187



2. Escribí el o los nombres de quienes lograron solucionar tu desafío.
