

01 América, un continente de contrastes

América es un extenso continente que suele ser denominado un “continente de contrastes” por la gran diversidad que presenta desde el punto de vista natural, económico, cultural y poblacional. La organización política de América fue resultado de un largo proceso histórico que dio lugar a países independientes y algunos territorios con distintos grados de dependencia con otros Estados.

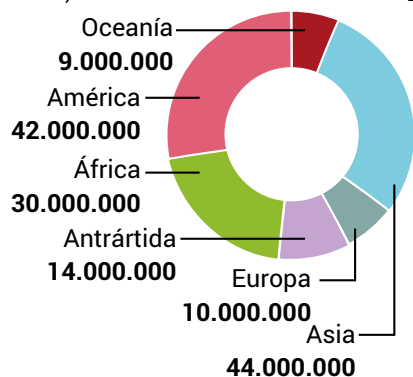
América en el mundo
Las divisiones de América y sus contrastes
La organización política
El caso de Cuba, Puerto Rico y las Islas Malvinas
Los problemas territoriales

<http://bit.ly/AZG2A01>



América en el mundo

Continentes
(Superficies aproximadas, en km²)



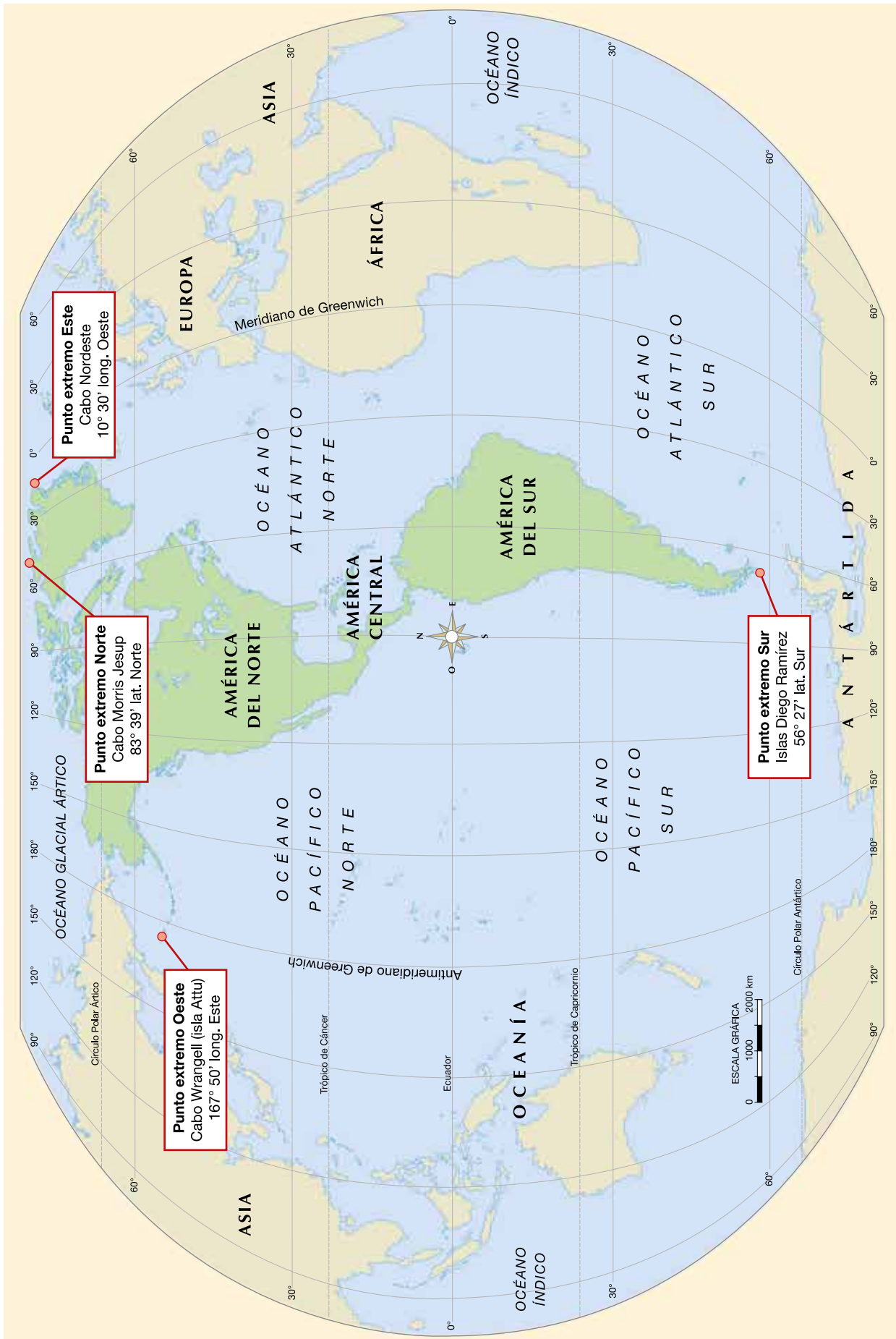
El continente americano, con sus 42 millones de km² de extensión, se encuentra en el segundo lugar entre todos los continentes por su superficie. Le corresponde el 28% del total de las tierras emergidas y representa solo el 8% de la superficie del planeta.

El nombre de "América" proviene del navegante italiano Américo Vesputio, quien visitó las nuevas tierras y en sus cartas manifestó que las tierras descubiertas por Colón constituían un "Nuevo Mundo", denominación que propuso. Por tal motivo, el continente no lleva el nombre de Cristóbal Colón, quien lo descubrió en 1492. Este nombre quedó relegado a la actual Colombia y a otros pequeños lugares del planeta. Por ejemplo, la localidad de Colón en la provincia argentina de Entre Ríos.

La posición geográfica de América en el mundo le brinda singularidades como, por ejemplo:

- América se emplaza, prácticamente por entero, en el hemisferio occidental. En efecto, salvo algunas pequeñas islas del archipiélago americano de las Aleutianas, el continente se localiza en el hemisferio definido por el meridiano de Greenwich (0° de longitud) y su respectivo antimeridiano (180° de longitud);
- América se desarrolla ampliamente en el sentido de las latitudes. Entre los puntos extremos Norte y Sur la distancia es aproximadamente de 15.500 km. En efecto, el continente americano presenta territorios tanto en la zona polar ártica como en la subpolar antártica y está atravesado por cuatro de los cinco paralelos que delimitan zonas climático-astronómicas. Esta singularidad otorga al continente una extraordinaria variedad de climas, lo que se refleja en las características que presentan la flora y la fauna, en la distribución de la población y en las actividades económicas;
- presenta estaciones del año opuestas entre las tierras situadas al Norte y al Sur del Ecuador. Esto permite una complementariedad en el intercambio de productos;
- América está plenamente aislada de otras masas emergidas pues está rodeada por los océanos Glacial Ártico (al Norte), Atlántico (al Este) y Pacífico (al Oeste). Esto da origen a un gran desarrollo costero;
- América está integrada por dos grandes masas emergidas de forma aproximadamente triangular, unidas por un istmo montañoso y volcánico, a lo que se adiciona un conjunto de guirnalda insulares. El bloque del Norte se extiende hacia el Oeste y el bloque del Sur hacia el Este. Ambos presentan semejanzas de relieve: grandes cordilleras al Oeste, macizos antiguos al Este y extensas llanuras en el centro. La distancia máxima Este-Oeste es de 7.000 km.

SUPERFICIE DE AMÉRICA	América del Norte	23.644.319 km ²
	América Central Ístmica	541.561 km ²
	Insular	232.115 km ²
	América del Sur	17.815.863 km ²
	Total	42.233.858 km²



Ubicación geográfica de América

Las divisiones de América

América es un solo continente pero de todos modos es posible efectuar en él varias diferenciaciones mediante la aplicación de distintos criterios.

Desde un punto de vista geográfico, América se divide en América del Norte, Central y del Sur. La división entre América del Norte y Central coincide con el límite político entre México, Guatemala y Belice, mientras que el límite entre Panamá y Colombia divide América Central de América del Sur.

También puede establecerse esta división geográfica teniendo en cuenta un criterio geológico. De esta manera, el límite entre América del Norte y Central se encuentra en el istmo de Tehuantepec, en México. En cambio, el límite entre América Central y del Sur está representado por una línea que se apoya en dos ríos colombianos: el río Atrato, que desemboca en el mar Caribe, y el río San Juan, que desemboca en el océano Pacífico. El arco de islas localizadas en el mar Caribe también forma parte de América Central y constituye un área del continente con gran complejidad geológica.

Desde un punto de vista cultural y económico se pueden diferenciar dos grandes unidades: **América anglosajona** en la parte septentrional y **América latina** en la zona meridional. Esta división atiende sobre todo a características culturales, que se ponen de manifiesto en nuestros días a través de desigualdades económicas y sociales. Otros tratadistas consideran que América latina



División geográfica estructural



División geográfica política



División socio-cultural



Iberoamérica



Hispanoamérica



Caribe

está formada por todos los países americanos en vías de desarrollo, es decir, de la periferia del mundo industrializado, independientemente de su lengua y su cultura.

El límite entre estas dos Américas está ubicado en el río Grande, que constituye gran parte del límite internacional entre los Estados Unidos y México. América anglosajona está integrada por Canadá, Groenlandia y los Estados Unidos; el resto de América forma parte de América latina.

La denominación América latina fue acuñada por autores franceses y se impuso en la literatura internacional. Con respecto al Caribe (o sea, la porción de América constituida por la América Central insular), también conocido como el “Mediterráneo americano”, algunos autores lo excluyen y lo consideran una unidad especial. Esto se debe a la gran fragmentación política resultado de las colonizaciones de distintos países europeos: España, Reino Unido, Francia y Holanda. Se destaca por poseer distintas lenguas, influencias culturales y gran porcentaje de mestizos y de población de origen africano.

Así como a América anglosajona también se la conoce como la “América pos industrial”, la “América del desarrollo” o la “América del primer Mundo”, para América latina se propusieron otras denominaciones como “Indoamérica”, “Indolatina”, “Amerindia” o “América del subdesarrollo”. Indoamérica hace referencia a los pueblos indígenas originarios del continente e Indolatina pone de relieve la mezcla entre los pueblos originarios y los europeos. También es válida Iberoamérica, por haber sido colonizada en su mayor parte por España y Portugal, países que integran la península ibérica en Europa. Por último se la reconoce como Hispanoamérica, en este caso sin el Brasil. Reúne a los países colonizados por España, donde predomina la lengua española que es el idioma oficial.



1. Clasifiquen los siguientes países teniendo en cuenta los distintos criterios utilizados para establecer las divisiones de América. Por ejemplo, desde el punto de vista geográfico, geológico, etcétera.

- Perú
- Guatemala
- Nicaragua
- Brasil
- Estados Unidos
- Cuba
- Canadá
- Argentina
- México
- Jamaica
- Venezuela
- Uruguay

Un continente de contrastes



valor agregado

Valor económico que se le agrega a una materia prima luego de un proceso industrial.

América es un continente de contrastes que se evidencian en la historia, en el medio natural, en la población y su calidad de vida y en el desarrollo económico.

Desde un **punto de vista histórico**, América anglosajona fue colonizada principalmente por ingleses, en tanto que América latina lo fue por españoles y portugueses. Cada uno de estos pueblos hizo distintos aportes culturales en relación con el idioma, la religión, la estructura de la sociedad, la organización jurídica, etc. Los ingleses se desplazaban con sus respectivas familias y por ello no se mestizaron con aborígenes y negras; en cambio, los españoles y los portugueses venían solos y se mezclaron con las distintas etnias.

El sistema anglosajón de colonización era metódico y de poblamiento por frentes continuos. Localizada en latitudes medias, dividieron las tierras que roturaban y cultivaban. Establecieron colonias agrícolas y construyeron puertos. En cambio, el sistema español era urbano y administrativo y fue llevado a cabo, principalmente, por los soldados y los sacerdotes. Privilegiaron la fundación de ciudades que organizaban política y económicamente las áreas circundantes. El fin principal fue la posesión de puntos estratégicos, con respecto a la comunicación, y de regiones de producción de metales preciosos como el oro y la plata. Localizada principalmente entre los trópicos, fue una colonización cuya organización se basó en una red de establecimientos dispersos.



Desde un **punto de vista físico**, América presenta variedad de paisajes debido a la combinación de sus características geológicas, climáticas y biológicas. Se aprecian desde elevadas cordilleras hasta extensas llanuras, temperaturas extremas y biomas variados como la tundra, el del desierto, la selva y la estepa, entre otros. Esta diversidad biológica constituye un gran potencial económico.

América presenta, también, profundos desequilibrios en la **ocupación del territorio** visualizados en una desigual distribución de sus habitantes. Las áreas con fuerte concentración de población y alta densidad demográfica contrastan con las zonas escasamente pobladas.

También existen profundas desigualdades en la **estructura y el desarrollo económico**. La Revolución Industrial repercutió más rápido en América anglosajona que en América latina, por disponer de ricos yacimientos de hierro y de carbón, entre otras causas. En la actualidad, América anglosajona posee alto desarrollo industrial y tecnológico y una economía dinámica basada en la exportación de productos de alto **valor agregado**. En cambio, la economía de América latina está organizada en torno a la producción y la exportación de materias primas, cuyos precios están cada vez más bajos en los mercados



1. Investiguen cuándo y dónde ocurrió la Primera Revolución Industrial. ¿Cuáles fueron sus principales consecuencias?



internacionales en relación con los de los productos industriales. Este hecho no favoreció el despegue económico y generó abultadas deudas externas que mantienen a muchos países en una dependencia financiera.

La **calidad de vida** también presenta notorias diferencias dentro de América. América anglosajona posee una elevada calidad de vida y un gran bienestar económico que llega a la mayoría de sus habitantes. Invierten ingentes recursos para sostener un sistema educativo excelente en todos los niveles y con una oferta educativa generalizada. Asimismo, el sistema de salud y la obtención de un empleo son accesibles a casi toda la población. También cuenta con equipamiento en infraestructura para el transporte y las comunicaciones, la provisión de energía, el abastecimiento de agua, el saneamiento y la recolección y la eliminación de residuos. Igualmente también presenta problemas como el deterioro del ambiente urbano por la contaminación. Las minorías urbanas, como las de la población hispana o negra, que viven en condiciones de pobreza.

En cambio, la mayor parte de la población de América latina se enfrenta a condiciones de pobreza con un alto índice de desocupación, escasez de viviendas adecuadas, falta de infraestructura sanitaria y altos índices de analfabetismo. Solo un reducido porcentaje de sus habitantes disfruta de una alta calidad de vida. A esto se suma un elevado y sostenido crecimiento de la población originando un círculo vicioso: cada vez hay mayor población y cada vez hay mayor pobreza. América anglosajona pudo regular su crecimiento demográfico estableciendo incluso rígidos cupos a la inmigración. Es por ello que sus montos poblacionales no son motivo de preocupación.

Estas disparidades entre las situaciones económicas de las distintas Américas se expresan vívidamente en las **migraciones de población**. La mano de obra disponible migra a otras tierras en procura de un bienestar que le niega su propio país.

Vistas parciales de las ciudades de Caracas, Venezuela y Chicago, Estados Unidos. En ellas contrasta su edificación: por un lado, los rascacielos y los edificios modernos y por otro, las viviendas precarias de los asentamientos informales, denominados ranchitos en Venezuela.

Países y capitales de América

País	Capital	Superficie (km ²)	Población	Densidad (hab/km ²)
Antigua y Barbuda	Saint John's	443,9	100.963	227
Argentina	Ciudad de Buenos Aires	3.761.274	44.044.811	11,7
Bahamas	Nassau	13.943	391.232	28
Barbados	Bridgetown	431	284.996	661
Belice	Belmopan	22.965	387.879	17
Bolivia	Sucre / La Paz	1.098.581	11.145.770	10
Brasil	Brasilia	8.515.767	207.660.929	24
Canadá	Ottawa	9.897.170	36.963.854	4
Chile	Santiago	756.096	17.574.003	23
Colombia	Bogotá	1.141.748	49.291.609	43
Costa Rica	San José	51.100	4.947.481	97
Cuba	La Habana	109.884	11.239.224	102
Dominica	Roseau	749,9	73.543	98
Ecuador	Quito	256.370	16.776.977	65
El Salvador	San Salvador	21.041	6.581.860	313
Estados Unidos de América	Washington	9.371.219	325.719.178	35
Granada	Saint George's	344	107.317	312
Guatemala	Guatemala	108.889	16.924.190	155
Guyana	Georgetown	214.999	773.303	4
Haití	Puerto Príncipe	27.065	10.847.334	401
Honduras	Tegucigalpa	112.492	8.866.351	79
Jamaica	Kingston	10.991	2.728.864	248
México	México	1.964.375	123.518.270	63
Nicaragua	Managua	130.373	6.393.824	49
Panamá	Panamá	74.177	4.037.043	54
Paraguay	Asunción	406.752	6.953.646	17
Perú	Lima	1.285.216	31.237.385	24
República Dominicana	Santo Domingo	48.311	10.075.045	209
Saint Kitts y Nevis	Baserre	271,9	54.821	202
San Vicente y las Granadinas	Kingstown	389	109.643	282
Santa Lucía	Castries	617	178.015	289
Surinam	Paramaribo	163.820	558.368	3
Trinidad y Tobago	Pto. España	5.127	1.356.633	265
Uruguay	Montevideo	176.215	3.480.222	20
Venezuela	Caracas	916.445	31.431.164	34

Fuente: Calendario Atlante De Agostini, 2019.

América. División política



La organización política de América

El continente americano está dividido políticamente en 35 Estados o países independientes y algunos territorios con distintos grados de dependencia con otros Estados.

Los países independientes en su condición de Estados están integrados por cuatro elementos:

- **un territorio:** es la base física sobre la que el Estado ejerce soberanía. Sobre él se asienta la población y desarrolla sus actividades;
- **un pueblo:** es la totalidad de habitantes que vive en el territorio argentino;
- **un gobierno:** es el que administra el Estado y se encarga de velar por el bienestar y la seguridad de todos sus habitantes;
- **un sistema jurídico:** es la organización que regula los derechos y deberes de todos los habitantes.

Independencia de los países americanos



La soberanía territorial de un país comprende las tierras emergidas continentales e insulares, el espacio marítimo con los fondos marinos que le corresponden de acuerdo a la Convención sobre el Derecho del Mar y el espacio aéreo. La soberanía de cada Estado llega hasta el centro de la Tierra.

Para alcanzar la organización política actual, en América se dieron dos procesos: el de la **colonización** que comenzó con la llegada de Colón en 1492 y el de la **descolonización**, o sea, la independencia y la organización de los Estados.

Este proceso de independencia comenzó en 1776, cuando las trece colonias inglesas del este de América del Norte fueron las primeras en independizarse del Reino Unido y formaron los Estados Unidos de América.

A partir de allí comienza el proceso de descolonización en América latina, de larga duración y caracterizado por graves conflictos debido a los distintos intereses políticos y económicos que intervenían. Hubo dos etapas muy importantes: una, durante la primera mitad del siglo XIX (entre 1804

y 1844), cuando se independizó más de la mitad de los actuales Estados y prácticamente desaparecieron de América los imperios español y portugués; la otra, en el transcurso de la segunda mitad del siglo XX (entre 1960 y 1983), cuando surgieron la mayoría de los países del Caribe.

Entre ambas etapas (de 1844 a 1960) pasaron más de 100 años de mucha calma, y solo se independizaron dos Estados en Centroamérica: Cuba en 1898 y Panamá que se separó de Colombia en 1903.

Con respecto a Canadá, desde 1931 era un Dominio Británico con gran autonomía, otorgado por el Estatuto de Westminster. En 1982 Isabel II proclamó la nueva Acta Constitucional que traspasó la autoridad legal y estatutaria del Reino Unido a Canadá, otorgándole su independencia.

La América dependiente

Los territorios que aún no lograron su independencia total revisten distintos estatus jurídicos de acuerdo con la relación que tienen con el otro país:

- **territorio no autónomo o colonia:** son territorios gobernados y administrados por otro país. Los habitantes no gozan del derecho de ciudadanía del país y dependen de las decisiones del país colonizador;

- **departamento de ultramar:** son territorios que anteriormente eran colonias y cambiaron de categoría. Poseen una administración propia y sus habitantes tienen los mismos derechos y deberes que los del país colonizador, que ejerce la soberanía;

- **estado libre asociado:** son territorios que poseen autonomía interna (por ejemplo eligen sus gobernantes), pero dependen del país colonizador en temas como defensa y relaciones internacionales.

En América, estos territorios son:

Estados Unidos	Islas Vírgenes, Puerto Rico, Bahía de Guantánamo, Isla Navassa
Francia	San Pierre e Miquelon, Guadalupe, Guayana Francesa, Martinica
Dinamarca	Groenlandia
Países Bajos	Caribe Neerlandés
Reino Unido	Anguila, Cayman, Islas Vírgenes, Montserrat, Turks y Caicos, Bermudas

Mancomunidad Británica de Naciones (Commonwealth)

El *Commonwealth* o Mancomunidad Británica de Naciones es un agrupamiento político de Estados que en el pasado pertenecieron al Imperio Británico. Están unidos por estrechos lazos económicos, políticos y culturales con el Reino Unido. La reina de Inglaterra es la máxima autoridad pero esto no implica sumisión alguna hacia la Corona. En América forman parte del *Commonwealth* los siguientes países: Canadá, Antigua y Barbuda, Bahamas, Barbados, Belice, Dominica, Granada, Guyana, Jamaica, Santa Lucía, San Vicente y las Granadinas, San Cristóbal y Nevis y Trinidad y Tobago.



1. Ingresen a <http://bit.ly/AZG20121>.
a. Investiguen: ¿Cuántos países forman parte de esta organización? ¿De qué continentes? ¿Cuáles son los valores y principios en los cuáles se sustenta? ¿Cuál es el tema elegido para este año? Fundamenten.

El caso de Cuba

Cuba fue una colonia española hasta diciembre de 1898, cuando España perdió la soberanía de Cuba y de Puerto Rico por la guerra hispano-estadounidense y la asumió Estados Unidos.

En 1902, Estados Unidos le otorgó la independencia a Cuba, pero reservándose el derecho de intervenir militarmente para preservar su independencia. Cuba fue gobernada por distintos presidentes hasta que en 1952 Fulgencio Batista tomó el poder en un golpe de Estado y gobernó por decreto.

El 1 de enero de 1959, Batista abandonó la isla y se hizo cargo del país el jefe militar, Fidel Castro. El 16 de abril de 1961, Castro declaró a Cuba "Estado socialista". Esta dirección llevó al deterioro de las relaciones con los Estados Unidos. Además porque el régimen cubano fue expropiando las propiedades estadounidenses que había en Cuba. En respuesta a esto, en octubre de 1960 los Estados Unidos impusieron un embargo comercial sobre Cuba y en enero de 1961, ambos países rompieron sus relaciones diplomáticas.

En 2014 se reunieron el presidente Barack Obama de Estados Unidos y Raúl Castro de Cuba y comenzó el restablecimiento de las relaciones diplomáticas. En 2015 volvió a funcionar la embajada de Estados Unidos en La Habana. En 2017, el nuevo presidente de los Estados Unidos, Donald Trump, anunció un cambio de política hacia Cuba, poniendo fin al acuerdo firmado por el gobierno anterior, lo que implicó un retroceso en el restablecimiento de las relaciones diplomáticas y el mantenimiento del bloqueo económico.

Con respecto a su economía, un gran porcentaje de los medios de producción pertenecen y son administrados por el Estado. Pero para desarrollar nuevas

Vista parcial de la ciudad de La Habana, Cuba. A la derecha se aprecia la cúpula del Capitolio, inaugurado en 1929. Es uno de los atractivos turísticos de la ciudad de gran importancia arquitectónica.



actividades económicas, como el turismo, al que consideran actualmente “el corazón de la economía”, se establecieron algunas reformas como la legalización del dólar y el permiso a la inversión extranjera.

En 1962 la Organización de los Estados Americanos (OEA) excluyó a Cuba de su participación en el organismo. En 2009 quedó sin efecto dicha resolución y los países miembro firmaron que la participación de Cuba en la OEA será el resultado de un proceso de diálogo iniciado a solicitud del Gobierno de dicho país y de conformidad con las prácticas, los propósitos y principios de la OEA. Pero Cuba mantiene relaciones diplomáticas y comerciales con casi todos los países de este continente. Con los Estados Unidos solo mantiene una pequeña relación comercial porque a pesar del embargo, los Estados Unidos consideran lícito venderle medicamentos y alimentos como “un apoyo humanitario” al pueblo cubano.


Por voto prácticamente unánime, la comunidad internacional, representada en la Asamblea General de las Naciones Unidas, rechazó en numerosas ocasiones consecutivas el prolongado bloqueo económico, financiero y comercial de más de cuatro décadas contra Cuba por parte de los Estados Unidos.

El caso de Puerto Rico


El nombre oficial es Estado Libre Asociado de Puerto Rico, porque es un Estado Libre Asociado a los Estados Unidos. Esta isla fue española hasta 1898, pero luego de la guerra hispanoamericana, por el Tratado de París, pasó a ser una colonia estadounidense. Hasta 1948, el poder era ejercido por un gobernador nombrado por el presidente de los Estados Unidos.

Desde 1917, sus habitantes son ciudadanos norteamericanos pero no tienen derecho a participar en los comicios de los Estados Unidos. En 1950, el Congreso de este país permitió que Puerto Rico elaborara su propia Constitución. En ella se estableció la autonomía administrativa interna total y el poder ejecutivo es ejercido por un gobernador elegido por sufragio universal por un período de cuatro años, que puede ser reelegido. Pero los Estados Unidos siguen siendo la autoridad en asuntos exteriores, defensa, moneda, aduanas, banca, justicia y la facultad de derogar las leyes elaboradas por el Parlamento de Puerto Rico.

En 1978, el Comité de Descolonización de la ONU ratificó el derecho de Puerto Rico a la autodeterminación. En los últimos años el pueblo fue consultado varias veces sobre el tema (plebiscitos), en 1993 por una ajustada victoria ganaron los partidarios de mantener el estatus de Estado Libre Asociado. Posteriormente, en los plebiscitos de 1998, 2012 y 2017 obtuvo la victoria la opción de estadidad, es decir, la de convertirse en un estado más de los Estados Unidos, o sea, la plena integración a dicho país. Igualmente no hubo ninguna modificación en su status debido a que los plebiscitos son no vinculantes.



1. Respondan. ¿Por qué Cuba sufre el bloqueo por parte de los Estados Unidos?
2. Organicen un pequeño debate donde puedan expresar sus opiniones sobre los siguientes temas:
 - a. ¿Quién es el más perjudicado con el bloqueo económico, el poder del gobierno o el pueblo?
 - b. ¿Por qué las Naciones Unidas que representa a la comunidad internacional no logra que los Estados Unidos acate las sucesivas resoluciones para el cese del bloqueo?



1. Respondan. ¿Por qué piensan que cuando hacen los plebiscitos en Puerto Rico no ganan los partidarios de la independencia total sino los de anexarse a los Estados Unidos?



El caso de las Islas Malvinas

El archipiélago de las Malvinas se encuentra situado sobre la plataforma continental argentina. Está integrado por dos islas mayores, **Gran Malvina** y **Soledad**, y numerosas islas más pequeñas, con una superficie total de 11.410 km². Están vinculadas geológicamente con la Patagonia e integran el denominado margen continental. Poseen valor estratégico y económico por los recursos naturales, como los combustibles y la pesca.

Vista parcial de la ciudad de Puerto Argentino en las Islas Malvinas. Se observa la Catedral de la Iglesia de Cristo, consagrada en 1892. Al frente de la misma hay un monumento realizado con las mandíbulas de dos ballenas.

La situación política del archipiélago es compleja y al respecto se debe tener en cuenta lo siguiente:

- la primera instalación humana en las islas estuvo a cargo, en 1764, de franceses provenientes de Saint Maló. Ante un reclamo español, los franceses entregaron el establecimiento que habían ocupado durante tres años a las autoridades dependientes de Buenos Aires, que entonces lo denominaron Nuestra Señora de la Soledad. En 1811 se levantó el establecimiento español en las islas.

- en 1820 se inició la ocupación argentina, interrumpida en 1833 por la usurpación británica con empleo de la fuerza;

- en 1961, la Asamblea General de las Naciones Unidas estableció un Comité Especial para examinar la aplicación de la Declaración sobre la descolonización y formular recomendaciones sobre su aplicación. En 1964, el Reino Unido se comprometió, ante este Comité, a descolonizar el archipiélago;

- desde 1965, la “Cuestión de las Islas Malvinas”, que incluye a las Islas Malvinas, Georgias del Sur y Sándwich del Sur y los espacios marítimos circundantes, se encuentra bajo consideración de las Naciones Unidas y año tras año instan a las partes a encontrar una solución;

- el conflicto bélico de 1982 interrumpió las relaciones diplomáticas y comerciales entre el Reino Unido y la Argentina hasta 1989 y postergó el tratamiento de la disputa, pero nuestro país continúa reclamándolas ante el Comité de Descolonización de las Naciones Unidas;

- en junio de 2007, el Comité de Descolonización de la ONU lamentó que aún no hayan comenzado a aplicarse las resoluciones de la Asamblea General que solicitan la negociación. Pidió nuevamente a los gobiernos de la Argentina y el Reino Unido que afiancen el diálogo y la cooperación para encontrar una solución pacífica a la disputa por las Islas Malvinas. La Argentina criticó las decisiones adoptadas unilateralmente por el Reino Unido con respecto a la gestión de los recursos pesqueros y la explotación de hidrocarburos en las islas.



1. Reúnanse en grupos y respondan:

a. ¿Cuáles son los fundamentos argentinos para reclamar las Islas Malvinas y los archipiélagos australes?, ¿cuáles son los argumentos que presentan los británicos para mantenerlas ocupadas?

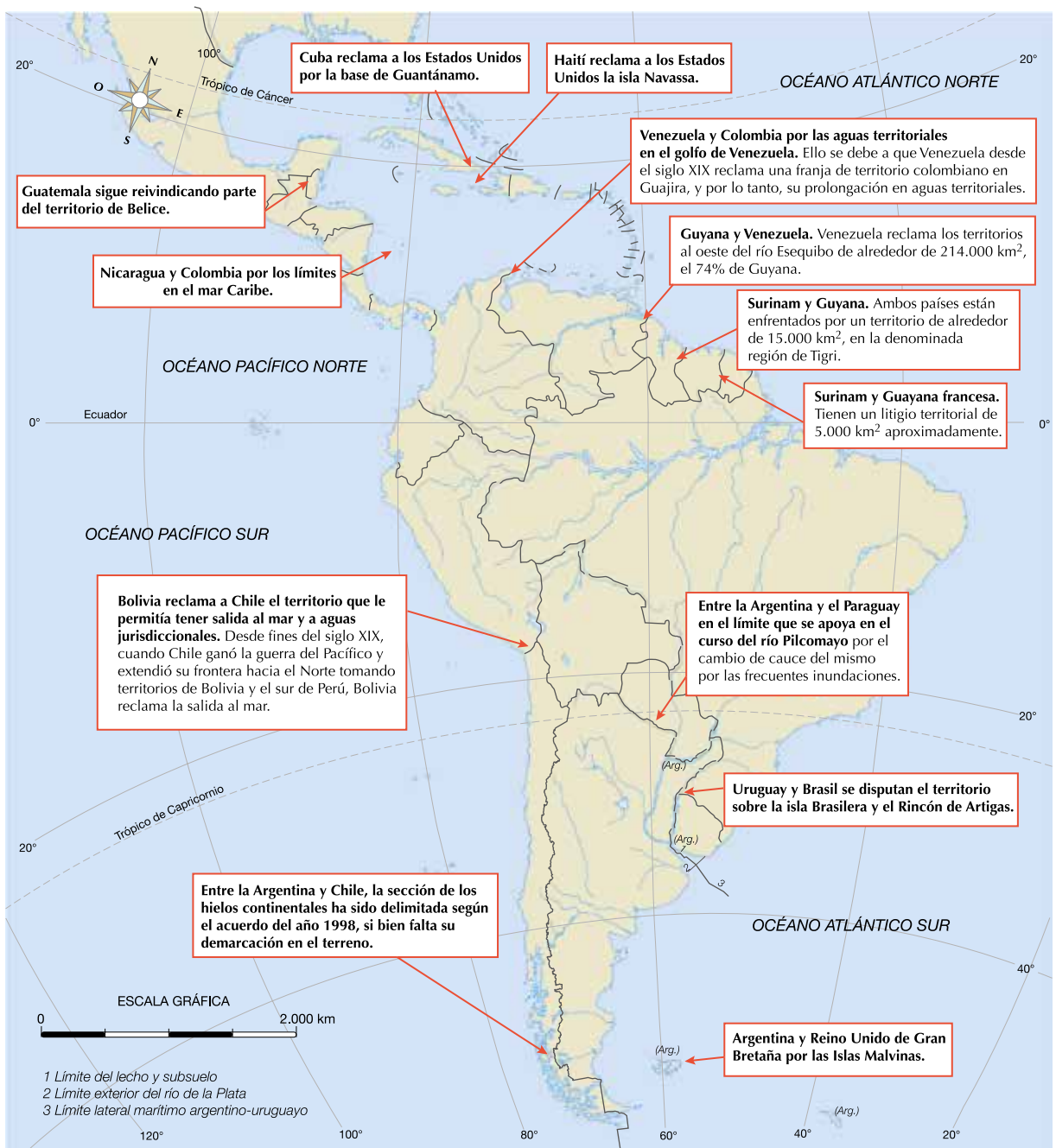
b. Averigüen la situación actual de este conflicto.

Problemas territoriales entre algunos países

El límite internacional es la línea convencional que separa dos Estados contiguos. El establecimiento del mismo es, por lo general, resultado de un largo y penoso proceso sostenido entre los países vecinos y que han acudido a distintos elementos jurídicos (tratados, arbitrajes, mediaciones) y a veces a enfrentamientos armados para alcanzarlos.

En el continente americano aún quedan territorios en litigio, son islas, franjas de terreno o aguas jurisdiccionales reclamadas por dos o tres países.

Principales problemas territoriales



Un caso para pensar

La salida al mar de Bolivia

Bolivia se independizó de España en 1825. En ese momento su territorio tenía salida al océano Pacífico a través del departamento Litoral. La riqueza económica de la zona se basaba en el guano, en el salitre y en recursos metalíferos, como el cobre y la plata, muy codiciados y de gran valor en el mercado mundial, lo que llevó a que muchos empresarios chilenos se instalen allí. Un impuesto del 10 % al quintal de salitre aplicado por el gobierno boliviano a las empresas chilenas, violando un tratado comercial de 1874, fue el motivo para que Chile invadiera dicho te-

rritorio en 1879. Allí comienza la llamada Guerra del Pacífico o Guerra del Guano y el Salitre, que se extendió hasta el año 1884. La guerra fue ganada por Chile. Bolivia perdió aproximadamente 120.000 km² y la salida al océano Pacífico.

Los actuales límites internacionales fueron fijados en el tratado de 1904, donde se le otorgó a Bolivia derecho de tránsito comercial por la zona y la utilización de los puertos del Pacífico. De hecho, Bolivia posee sus propias autoridades aduaneras en los puertos de Arica y Antofagasta.

La reforma de la Constitución boliviana en 2008 otorgó a la reivindicación marítima carácter constitucional. A partir de allí se iniciaron conversaciones sobre la salida al mar aunque sin resultados. Es por eso que en año 2013, el presidente de Bolivia, Evo Morales, formalizó una demanda ante la Corte Internacional de Justicia de La Haya contra Chile para obligarlo a negociar una salida al mar. Dicha demanda fue aceptada por el organismo internacional.

Bolivia basó la demanda en el incumplimiento de Chile de los derechos expectativos, es decir, en la promesas que generó en distintas declaraciones con respecto a otorgar una salida al mar.

Chile manifiesta que las distintas conversaciones que han mantenido a lo largo de la historia no les generan ningún tipo de obligación. La Corte Internacional de Justicia dictaminó en 2018 que Chile no tiene obligación de negociar una salida al Pacífico para Bolivia.



1. ¿Cuándo y por qué Bolivia perdió la salida al mar?
2. ¿Cuáles son los argumentos de Bolivia y de Chile en el conflicto por la salida al mar?
3. ¿Por qué es importante para un país tener salida al océano?

Herramientas para pensar

El cuadro comparativo

El cuadro comparativo es una herramienta de síntesis en forma de gráfico que permite establecer semejanzas y diferencias entre distintos elementos.

Trigo: superficie cosechada, producción y rendimiento por hectárea

País	Superficie cosechada (en miles de ha)	Producción (en miles de toneladas)	Rendimiento (t/ha)
Francia	3.218,7	27.789	8,63
España	3.297,2	28.950	8,78
China	34.969,4	126.208	3,64
Estados Unidos	18.271,6	55.142	3,02
Canadá	9.481,5	23.281	2,46
Australia	7,8 (2,3)	18,3 (5,0)	2,35
Argentina	3.462,7	10.115	2,92
Brasil	23.907,5	59.211	2,48

Fuente: Calendario Agrario de agosto, 2016.

Posee las siguientes características:

- está formado por columnas donde se ubican los ítems o elementos que se van a comparar;
- en distintas filas se colocan las variables o aspectos de comparación y las características que corresponden a cada

elemento.

Los datos que se utilizan para la confección del cuadro pueden ser de carácter cuantitativo o cualitativo. Es muy útil para organizar y sistematizar la información y facilitar la comprensión de forma visual. Se emplean en

la investigación, en el ámbito educativo, en ámbito empresarial y son de gran provecho en el momento de tomar decisiones ya que se comparan distintas posibilidades.

1. Lean y subrayen las páginas 14 y 15 de este capítulo.
2. Realicen un cuadro comparativo entre América anglosajona y América latina cuyas variables estén basadas en la información brindada en dichas páginas.
3. Utilicen la siguiente estructura como guía. Coloquen tantas filas como variables a comparar.

Variables	América anglosajona	América latina

- a. ¿Cuántas variables pudieron extraer del texto? Compárenlas con las de sus compañeros. Completen todos sus cuadros para tener la misma cantidad de variables.
 - b. ¿Qué conclusiones extraen del cuadro?
 - c. ¿Predominan las diferencias o las semejanzas entre América anglosajona y América latina? Fundamenten la respuesta.
4. Se dice que América es un continente de contrastes. Justifiquen esa afirmación utilizando la información del cuadro comparativo.
 - a. ¿Por qué esta división de América es la más conveniente para realizar este cuadro comparativo?
 - b. ¿Es lo mismo América latina que América del Sur? ¿América del Norte que América anglosajona? Justifiquen la respuesta.
 5. Busquen en diarios o revistas una fotografía que represente a América anglosajona y otra que represente a América latina. Fundamenten la elección.
 - a. Redacten un epígrafe para cada fotografía.
 - b. Seleccionen cinco noticias periodísticas sobre América anglosajona y cinco sobre América latina. No olviden anotar la fecha del recorte, el diario y la sección a la que pertenece y la página. Subrayen las ideas principales de cada artículo periodístico.
 - c. ¿Cuáles son las principales temáticas que desarrollan en los recortes con respecto a América anglosajona y a América latina? ¿Son similares o se diferencian?



Actividades de cierre y evaluación

El mapa político de América

1. Observen el mapa político de América y respondan:
 - a. ¿Qué países son atravesados por la línea del Ecuador?
 - b. ¿Qué países están cruzados por el trópico de Capricornio y el trópico de Cáncer?
 - c. ¿Qué países de América no tienen salida al mar?
 - d. ¿Qué países de América tienen costas a tres océanos?
 - e. Enumeren cuatro países que sean bioceánicos.
 - f. ¿En qué países se encuentran los puntos extremos de América?
 - g. ¿Qué países de América del Sur no limitan con el Brasil?
 - h. ¿Qué países tienen el mismo nombre que su capital? ¿En qué América se encuentran teniendo en cuenta todos los criterios de división analizados a lo largo del capítulo?
 - i. ¿Qué países tienen en todo su nombre la misma vocal? ¿En qué América se encuentran teniendo en cuenta todos los criterios de división?

Siguiendo pistas

1. Deben descubrir seis países de América siguiendo estas pistas. ¡Adelante! Luego localícenlos en un mapa de América.

A		D	
B		E	
C		F	

- El país **A** está atravesado por la línea del Ecuador y limita con el país **C**.
- El país **C** está al Sur del país **B**.
- El país **E** y **F** forman parte de América Central.
- El país **A** forma parte de América anglosajona y es el más extenso de América.
- El país **F** está al Norte del país **B** y **C** pero al Sur del país **A**, **D** y **E**.
- El país **D** forma parte de América del Norte.
- El país **C** tiene costas al océano Pacífico.
- El país **E** está en una isla.
- El país **B** es bioceánico junto con el país **D** y **F**.
- El país **A** tiene costas a tres océanos.
- El país **D** está atravesado por el trópico de Cáncer y no tiene su capital sobre la costa.
- El país **F** es el de mayor extensión de América Central Ístmica.
- El país **E** entra aproximadamente 90 veces en el país **A**.
- El país **C** entra aproximadamente 1,5 veces en el país **D**.